

平成 29 年 (2017) 度

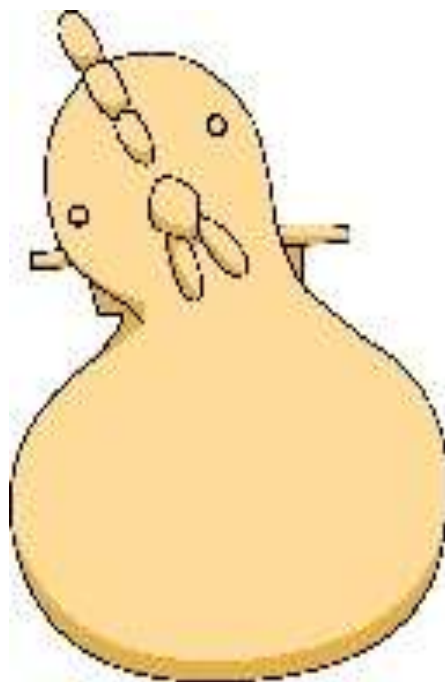
お ごとり

れき し けんてい

# 第2回小郡ふるさと歴史検定

しょうがくせい      ちゅうがくせいへん      もんだい  
小学生・中学生編 問題

漢字にはよみがな を書いてください	
なまえ	



ふるさと小郡のあゆみ普及活用推進委員会

小郡市埋蔵文化財調査センター

第1問 小郡市は、北緯何度に位置しているでしょう。

- ① 北緯33度      ② 北緯43度      ③ 北緯53度



第2問 明治22年(1889年)に町村制が施行され、現在の小郡市の範囲には、5つの村ができました。御原郡小郡村・御原村・立石村・三国村の4つと、もうひとつは何郡何村でしょう。

- ① 御原郡味坂村  
② 御原郡山隈村  
③ 御井郡味坂村



第3問 小郡市で確認できる最初の人類の活動痕跡は、2万5千年前と考えられています。そのころは何時代とよばれているでしょう。

- ① ジュラ紀      ② 縄文時代      ③ 旧石器時代



第4問 大崎井牟田遺跡から見つかった縄文時代の調理した炉跡(下の写真)は、何を敷き詰めたものでしょう。

- ① 落ち葉  
② 石  
③ 木材



この写真は、『ふるさと小郡のあゆみ』にはまだのっていません。

第5問 北牟田遺跡の弥生時代の住居からは、  
床面から燃えてしまった木の農耕具が出  
土しました。

発見された農耕具の種類は何でしょ  
う。

- ① 鋤                      ② 鋤                      ③ 鎌



第6問 大保横枕遺跡は、現在のイオン小郡の  
場所にもともとあった遺跡です。

この遺跡から弥生時代の環濠が見つか  
っていますが、何本見つかっているでしょ  
う。

- ① 1本                      ② 2本                      ③ 3本



第7問 小郡若山遺跡(小郡カトリック幼稚園付近)では、  
朝鮮半島でつくられた鏡が2面も出土しました。  
この鏡の種類(名前)は何というでしょう。

- ① 三角縁神獣鏡  
② 方格規矩鏡  
③ 多鈕細文鏡



(文化庁保有)

第8問 小郡小学校の南600mの寺福童遺跡からは、  
9つの青銅製品が出土しました。  
何という名前の青銅製品でしょう。

- ① 銅剣                      ② 銅矛                      ③ 銅戈



第9問 発掘調査では弥生時代の争いで殺された人のお墓が見つかることがあります。小郡市でも、頭が首のところから切り落とされた人骨が出土しました。何遺跡から見つかったのでしょうか。

① 津古生掛遺跡

② 隈・西小田遺跡

③ 横隈狐塚遺跡



この写真は、まだ『ふるさと小郡のあゆみ』につかっています。

第10問 古墳時代の初めにつくられた津古生掛古墳からは、鏡が出土しています。鳥が描かれたこの鏡の種類（名前）は何というのでしょうか。

① 方格規矩鳥文鏡

② 内行花文鏡

③ 三角縁神獣鏡



第11問 全長が66mある小郡市で最大の古墳（前方後円墳）は、何という古墳でしょうか。

① 津古生掛古墳

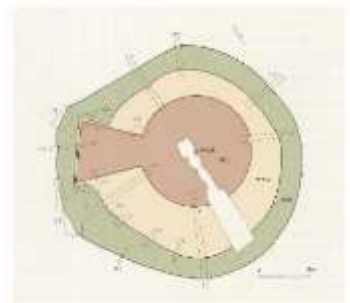
② 花立山穴観音古墳

③ 三国の鼻1号墳



第12問 小郡市では、石室に線を刻んで文様をかいた装飾古墳が見ついています。その花立山穴観音古墳は、花立山にある古墳の中でも一番大きな古墳（前方後円墳）です。

花立山穴観音古墳の全長(周溝を含む長さ)はどのくらいでしょうか。



① 36.5m

② 46.5m

③ 66.5m



第13問 須恵器は、古墳時代に朝鮮半島から伝わった新しい土器です。この須恵器を焼く登窯が、のぞみが丘小学校の近くでも見つかっています。

登窯は、何基（いくつ）見つかっているでしょう。

- ① 5基                      ② 6基                      ③ 7基



第14問 甘木鉄道松崎駅北側に広がる上岩田遺跡。天武7年（678年）に起こった地震で被害を受け、寺や建物が倒壊してしまいます。

この時の地震は何とよばれているでしょう。

- ① 白鳳大地震                      ② 筑後国大地震                      ③ 筑紫国大地震



第15問 小郡官衙遺跡は、奈良時代の役所跡として有名です。

当時のどの地域（郡）を治める役所でしょう。

- ① 夜須郡                      ② 御井郡                      ③ 御原郡



第16問 宝満川の東側に井上の集落がありますが、この地には古代の寺院（井上廃寺）が想定されています。

この井上廃寺の範囲はどのくらいでしょう。

- ① 南北180m×東西120m  
② 南北200m×東西200m  
③ 南北108m×東西216m



第17問 奈良時代の干潟遺跡からは、とても貴重な金製の玉が出土しています。

この金製の玉は、もともとどの国のものと考えられているでしょう。

- ① インカ      ② トラキア      ③ ペルシャ



第18問 源義仲の都での乱暴な振る舞いに対し

て、源頼朝は弟の範頼・義経を大将とする義仲追討軍を派遣し、京都の宇治川をはさんで義仲軍と対陣しました。その時、義経指揮下の武将の佐々木四郎高綱は、先陣をきって宇治川を渡り、敵に攻め入りました。

佐々木四郎高綱が乗っていた名馬の名前は何でしょう。

- ① 宝満      ② 鯨坂      ③ 池月



第19問 南朝正平14年・北朝延文4年

(1359年)に、宮方(南朝方)と幕府方(北朝方)が、筑後川沿岸から大保原にかけて戦った戦いを大保原合戦(筑後川の戦い)といいます。

その時宮方(南朝方)の中心となって活躍した武将はだれでしょう。

- ① 今川了俊      ② 菊池武光      ③ 少式頼尚



第20問 大内氏が北部九州に勢力を伸ばしてくると、南北朝時代以来九州での幕府方の中心勢力であった武将と対立するようになりました。

大内氏に対抗し、少式氏・菊池氏と結んで挙兵した武将は何氏でしょう。

- ① 北条氏      ② 大友氏      ③ 三原氏

第21問 大内氏が弘治3年（1555年）に滅ぶと、大友氏は北部九州各地の戦乱を制圧し、その勢力は筑前・筑後・豊前・豊後・肥前・肥後の6カ国に及びました。高橋鑑種は、大友氏の元に戻り、筑前の宝満・岩屋両城の城督になりましたが、九州進出をもくろむ武将とひそかに通じ、大友宗麟に背きました。この時本格的に九州に進出してきた武将（名前）はだれでしょう。



- ① 秋月種実                      ② 宗像氏貞                      ③ 毛利元就

第22問 山城は高所の平坦地に館が築かれ、それを防御するために、その地形を巧みに生かし、空堀や傾斜面を設けています。花立山の山頂を中心とする城の名前は何かというでしょう。



- ① 勝尾城                      ② 山隈城                      ③ 宝満城

第23問 中世に生きた人々の生活は、遺跡から発見される当時の道具から見るができます。稲吉元矢次遺跡からは、特に大事なものが大量に発掘されました。それは何でしょう。

- ① 中国製陶磁器                      ② 石庖丁                      ③ 須恵器（甕）

第24問 今の小郡市は、古代におかれた御原郡と御井郡の村々からできています。江戸時代のころ、御原郡と御井郡ふたつを合わせた地域は、何とよばれていたでしょう。



上の図は一部分加工していますので、本の中の図と同じではありません。

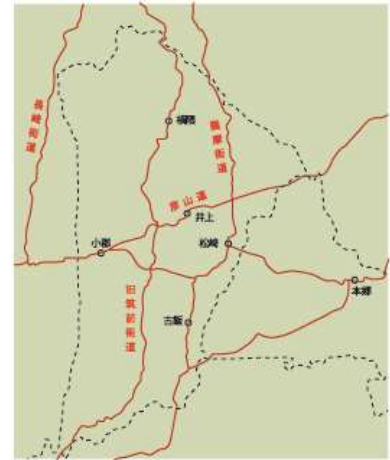
- ① 上三郡                      ② 三瀨郡                      ③ 両郡

第25問 江戸時代の正保4年(1647年)、花立山などから運び出した石を使って宝満川に稲吉堰が造られました。稲吉堰を造るとき総監督をして、工事を指揮した久留米藩の普請奉行はだれでしょう。



- ① 有馬豊氏      ② 丹羽頼母重次      ③ 山村典膳

第26問 江戸時代、街道が通っていた古飯や横隈では、品物の売り買いをする市が開かれたり、芸能の興行が行われたりしました。そのようなところを何町というでしょう。



- ① 新町      ② 宿場町      ③ 在郷町

第27問 小郡は江戸時代から檜蠟の産地として栄えました。小郡で内山伊吉によって作り出され、鹿児島や熊本、鳥栖などに広がり、九州一円で栽培された檜の木の種類は何でしょう。



- ① 伊吉檜      ② 葡萄檜      ③ 松山檜

第28問 江戸時代の文化9年(1812年)、日本地図をつくるために九州を調査したとき、薩摩街道や彦山道を測量し、松崎宿に泊まったことがあるのはだれでしょう。



- ① 豊臣秀吉      ② 伊能忠敬      ③ 稲次因幡



第29問 江戸時代小郡の西、肥前国基肄郡を流れる秋光川の水をめぐって、久留米藩領の小郡村と、幕府領の寺福童村、対馬藩田代領の村々の三者が、8年間も争いました。秋光川につくられた何という堰からの水をめぐる争いだったでしょう。



- ① 豆田井手の堰      ② 津古堰      ③ 高原堰

第30問 江戸時代の宝暦4年(1754年)、久留米藩では小郡の農民たちも参加した大規模な一揆が起きました。藩主有馬頼僮が、8才以上の男女すべてに新しい税を納めさせるよう命じたことが一揆の主な原因でした。何という税を命じたのでしょうか。



- ① 租庸調      ② 夏物成      ③ 人別銀

第31問 江戸時代の寛政8年(1796年)、御原郡井上村(今の小郡市井上)に住む豪農が、久留米藩の藩校明善堂をつくるため、現在のお金で3600万円もの建築資金を、藩に献金しました。その井上村の豪農とはだれでしょう。



- ① 樺島石梁      ② 樋口甚蔵      ③ 渡辺貞山

第32問 江戸時代には松崎宿の旅籠だった建物を復原する工事が、平成24年(2012年)から始まりました。何という名前の旅籠でしょう。



- ① 油屋      ② お茶屋      ③ 米屋

第33問 久留米藩は、官軍として戊辰戦争に本格的に参戦しました。戊辰戦争に参加した隊の中には、小郡出身の樋口胖四郎・良臣兄弟が深く関係した農民や商人で編制された隊がありました。

その隊の名前は、何というでしょう。

- ① 農商隊                      ② 応変隊                      ③ 殉国隊



第34問 安政2年(1855年)10月21日、御井郡味坂村光行(当時は光行村)生まれで、自由民権運動家として活躍し、福岡県会議員に当選。その後第1回衆議院選挙で国會議員となり、筑後川の改修工事を始め、国の治水問題に積極的に取り組みました。その人物はだれでしょう。

- ① 野田宇太郎                      ② 田中新吾                      ③ 佐々木正蔵



第35問 田中新吾は、三井郡農会の会長となり、農業の改良と近代化を進めました。特に稲の白葉枯れ病の原因が細菌だと分かると、それに強い品種を発見して育てることを続けました。そして、ついに大正元年(1912年)に新しい品種を開発しました。

田中新吾が開発した米の新品種名は何でしょう。

※ 三井郡は、明治29年(1896)、御原郡・御井郡・山本郡の3つの郡が合併してできました。

- ① 三井神力                      ② 味坂神力                      ③ 小郡神力



第36問 三井郡では郡農会ができると、ある産業を積極的にすすめました。その結果三井郡は、朝倉郡に次ぐ生産地帯となりました。その産業とは何でしょう。

- ① 蠟燭産業                      ② 養蚕業                      ③ 果樹栽培



第37問 大正4年（1915年）に設立された筑紫電気軌道株式会社が、大正11年（1922年）に着工した二日市—久留米間の鉄道の名前は何でしょう。



- ① 両筑軌道
- ② 三井電気軌道
- ③ 九州鉄道

第38問 昭和20年（1945年）3月27日、三井郡立石村立立石国民学校の小学生が、下校途中に空襲で亡くなりました。その空襲を何というでしょう。




- ① 小郡空襲
- ② 三井空襲
- ③ 大刀洗空襲

第39問 明治政府は、イギリス、フランスなどの西欧諸国に追いつき、近代国家になるためには、国民に対する教育が必要だと考え、「学制」を發布しました。それは何年のことだったでしょう。



- ① 明治元年（1868年）
- ② 明治5年（1872年）
- ③ 明治10年（1877年）

第40問 野田宇太郎は、小郡市松崎出身の全国的に名高い文学者であり、詩人です。昭和25年（1950年）、森鷗外などの偉大な文学者の足跡を記録に留めたいという思いから、宇太郎が始めたことは何でしょう。



- ① 文学日記
- ② 文学散歩
- ③ 文学あれこれ



第41問 牛や豚、馬、羊、ウサギ、山羊などを飼育し、畜産技術の研究を行っていた施設が、昭和16年(1941年)から昭和53年(1978年)まで小郡市三沢にあり、子どもたちの遠足にもよく利用されていました。



それは何という施設でしょう。

- ① 福岡県種畜場 ② 福岡県農業試験場 ③ 九州大学農学部

第42問 戦後中学校が義務教育になり、各市町村は新しく中学校をつくることになりました。今から70年前の昭和22年(1947年)4月、大原中学校(開校した時の名前は小郡中)を共同でつくったのは、当時の小郡村と何村でしょう。



- ① 味坂村 ② 御原村 ③ 三国村

第43問 戦後も小郡では、大きな水害が数回おきています。東福童の端間を中心に、川からあふれ出た濁流によって9人が亡くなり、民家5戸が流されるなど大きな被害を出したのは、昭和何年におきた水害でしょう。



- ① 昭和28年 ② 昭和38年 ③ 昭和48年

第44問 小郡町は、昭和47年(1972年)4月1日に小郡市になりました。当時小郡市の人口は、およそ何人くらいだったでしょう。



- ① およそ3万人 ② およそ4万人 ③ およそ5万人



第45問 カモ<sup>りょう</sup>猟のとき、仕掛<sup>し か</sup>けから少し<sup>すこ</sup>離れたところ<sup>はな</sup>ろに設置<sup>せつち</sup>した見張<sup>み は</sup>り小屋<sup>ご や</sup>を何<sup>なん</sup>というでしょう。



- ① カヤモト
- ② カモヤト
- ③ カモトヤ

第46問 小郡市<sup>お ごおり し</sup>指定有形文化財<sup>していゆうけいぶん かざい</sup>でもある西島<sup>にしじま</sup>の如来<sup>にょらい</sup>石像<sup>せきぞう</sup>は、何<sup>なに</sup>時代<sup>じだい</sup>につくられたものでしょう



- ① 鎌倉時代<sup>かまくら じだい</sup>
- ② 南北朝時代<sup>なんぼくちょう じだい</sup>
- ③ 江戸時代<sup>えど じだい</sup>

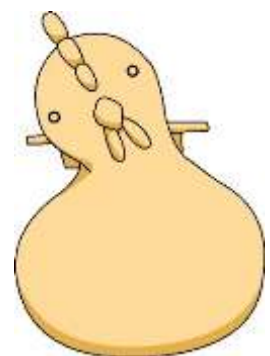
第47問 十六参<sup>じゅうろくまい</sup>りでお参<sup>まい</sup>りする山<sup>やま</sup>はどこでしょう。

- ① 花立山<sup>はなたてやま</sup>
- ② 高良山<sup>こうらさん</sup>
- ③ 宝満山<sup>ほうまんざん</sup>



第48問 小郡<sup>お ごおり</sup>の方言<sup>ほうげん</sup>「レンコンクウ」は<sup>い</sup>どうい<sup>み</sup>う意味<sup>い</sup>でしょう。

- ① レンコン<sup>た</sup>を食べ<sup>た</sup>る
- ② 変<sup>か</sup>わり<sup>もの</sup>者
- ③ 気<sup>き</sup>をきかす



つこっこ

第49問 古代御原郡で「板井」という名が出てくる平安時代に書かれた文献は何でしょう。

- ① 『日本書紀』
- ② 『和名抄』
- ③ 『大日本地名辞書』



第50問 小郡市でも開発により新しい地名に変わったところがありますが、公園名は古い地名をそのまま残して付けられています。

美鈴の柱には、何という名前の公園があるでしょう。

- ① 北松尾公園
- ② 北中尾公園
- ③ 北山公園



上の写真は一部分加工していますので、本の中の写真と同じではありません。

# 第2回 小学生・中学生編 解答

問題番号	解答と出題箇所	問題番号	解答と出題箇所	問題番号	解答と出題箇所
1	①北緯33度 あゆみ 2 ページ 小郡市の位置	17	③ペルシヤ 75 ページ 金製の玉の出土	34	③佐々木正蔵 158 ページ 佐々木正蔵
2	③御井郡味坂村 7 ページ 明治時代の小郡	18	③池月 79 ページ 名馬池月の塚	35	①三井神力 160 ページ 三井神力の開発
3	③旧石器時代 13 ページ ナイフ形石器	19	②菊池武光 84 ページ 大保原合戦とは	36	②養蚕業 165 ページ 養蚕業の変遷
4	②石 17 ページ 縄文時代の住居・炉・墓	20	②大友氏 88 ページ 大友氏 VS 大内氏	37	③九州鉄道 168 ページ 九州鉄道(現西鉄)の設立
5	②鋤 20 ページ 弥生時代の木器	21	③毛利元就 94 ページ 毛利氏の九州進出	38	③大刀洗空襲 175 ページ 犠牲になった子どもたち
6	②2本 22 ページ 大保横枕遺跡の環濠	22	②山隈城 99 ページ 花立山にあった山城	39	②明治5年(1872年) 178 ページ 近代教育の発足
7	③多鈕細文鏡 29 ページ 小郡・大板井遺跡群の構造	23	①中国製陶磁器 102 ページ 民衆のくらし写真	40	②文学散歩 183 ページ 出版編集と文学散歩のはじまり
8	③銅戈 34 ページ 寺福童遺跡の銅戈	24	③両郡 110 ページ 藩領と支配のしくみ・地図	41	①福岡県種畜場 189 ページ 福岡県種畜場
9	③横隈狐塚遺跡 36 ページ 横隈狐塚遺跡の首がない骨	25	②丹羽頼母重次 112 ページ 稲吉堰の築造	42	③三国村 191 ページ 新制中学校の開校
10	①方格規矩鳥文鏡 39 ページ 鏡とにわとり	26	③在郷町 118 ページ 小郡の在郷町	43	②昭和38年 196 ページ 昭和38年の大水害・堤防が壊れる
11	③三国の鼻1号墳 40 ページ 小郡最大の古墳	27	①伊吉櫓 120 ページ 内山伊吉	44	①およそ3万人 198 ページ 市制実現に向けて
12	②46.5m 49 ページ 花立山穴観音古墳	28	②伊能忠敬 122 ページ 薩摩街道・松崎宿	45	③カモトヤ 206 ページ カモ猟の手法
13	③7基 54 ページ 荻又の須恵器窯	29	①豆田井手の堰 124 ページ 広がる豆田井手の水	46	①鎌倉時代 213 ページ ムラの氏神
14	③筑紫国大地震 61 ページ たくさんの瓦	30	③人別銀 130 ページ 一揆起きる	47	③宝満山 215 ページ 十六参り
15	③御原郡 64 ページ 官衙遺跡公園	31	②樋口甚蔵 138～9 ページ 甚蔵の決断	48	③気をきかす 219 ページ 小郡の方言 レの項
16	①南北 180m × 東西 120m 70 ページ 瓦と南大門	32	①油屋 146 ページ 保存への思い	49	②和名抄 225 ページ 大板井
		33	②応変隊 150 ページ 樋口良臣と戊辰戦争	50	②北中尾公園 231 ページ 美鈴が丘・希みが丘・美鈴の杜